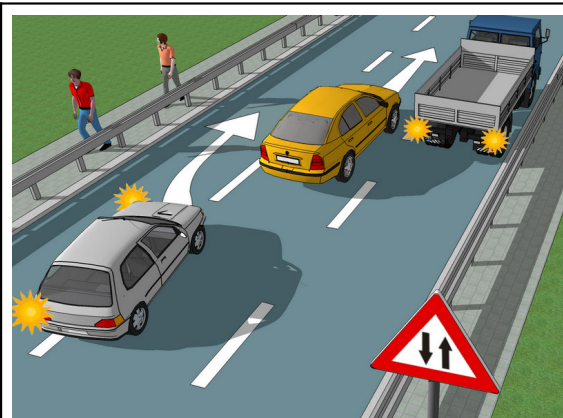


	<p>1. Возачу путничког возила, у ситуацији приказаној на слици:</p> <p>а) дозвољено је заустављање и паркирање <input type="checkbox"/></p> <p>б) забрањено је заустављање и паркирање <input type="checkbox"/></p> <p>в) дозвољено је заустављање а забрањено паркирање. <input type="checkbox"/></p>	<p>3</p>
	<p>2. Терет на теретном возилу, у ситуацији приказаној на слици, означен је:</p> <p>а) на непрописан начин. <input type="checkbox"/></p> <p>б) на прописан начин. <input type="checkbox"/></p>	<p>2</p>
	<p>3. Теретно возило, у ситуацији приказаној на слици:</p> <p>а) креће се путем са првенством пролаза. <input type="checkbox"/></p> <p>б) наилази на пут исте важности <input type="checkbox"/></p> <p>в) наилази на пут са првенством пролаза <input type="checkbox"/></p>	<p>2</p>
	<p>4. Возач плавог путничког возила, у ситуацији приказаној на слици:</p> <p>а) није дужан да пропусти пешаке који прелазе коловоз. <input type="checkbox"/></p> <p>б) дужан је да пропусти пешаке који прелазе коловоз. <input type="checkbox"/></p> <p>в) дужан је да звучним знаком упозори пешаке јер прелазе коловоз на недозвољеном месту. <input type="checkbox"/></p>	<p>3</p>
	<p>5. У ситуацији приказаној на слици, када једно од возила мора да се креће уназад да би се омогућило безбедно мимоилажење, дужан је да се креће уназад:</p> <p>а) возач теретног возила <input type="checkbox"/></p> <p>б) возач путничког возила. <input type="checkbox"/></p>	<p>2</p>
	<p>6. У ситуацији приказаној на слици, поступак мимоилажења регулисан је:</p> <p>а) постављеним саобраћајним знаковима <input type="checkbox"/></p> <p>б) међусобним договором возача, давањем светлосног или звучног знака упозорења. <input type="checkbox"/></p> <p>в) правилом саобраћаја <input type="checkbox"/></p>	<p>2</p>
	<p>7. У ситуацији приказаној на слици, возач црвеног путничког возила започиње претицање:</p> <p>а) прописно. <input type="checkbox"/></p> <p>б) непрописно. <input type="checkbox"/></p> <p>в) прописно, само уколико се креће дозвољеном брзином. <input type="checkbox"/></p>	<p>3</p>
	<p>8. Возач теретног возила, према ситуацији на слици, сме да повећава брзину кретања док га друго возило претиче:</p> <p>а) да <input type="checkbox"/></p> <p>б) не. <input type="checkbox"/></p> <p>в) да, највише до дозвољене брзине кретања <input type="checkbox"/></p>	<p>3</p>
	<p>9. У ситуацији приказаној на слици, возачи су дужни да поступају:</p> <p>а) у складу са значењем светлосних саобраћајних знакова и правилом саобраћаја. <input type="checkbox"/></p> <p>б) у складу са значењем саобраћајних знакова и правилом саобраћаја. <input type="checkbox"/></p> <p>в) само у складу са правилом саобраћаја којим се регулише првенство пролаза <input type="checkbox"/></p>	<p>3</p>
	<p>10. У ситуацији приказаној на слици:</p> <p>а) возач плавог путничког возила је дужан да пропусти аутобус. <input type="checkbox"/></p> <p>б) возач аутобуса је дужан да пропусти плаво путничко возило. <input type="checkbox"/></p>	<p>2</p>



1. Сиво путничко возило, у ситуацији приказаној на слици, користи крајњу леву саобраћајну траку:

а) прописно. 3

б) непрописно.


в) прописно, ако не омета друге учеснике у саобраћају

2. Зауостављање теретног возила, у ситуацији приказаној на слици је:

а) дозвољено. 2

б) забрањено.

в) дозвољено, највише до 15 минута



3. У ситуацији приказаној на слици, возачи су дужни да поступају:

а) у складу са знацима које даје овлашћено лице и правилом саобраћаја. 3

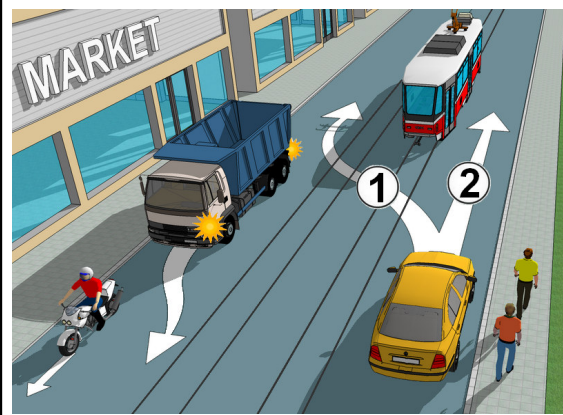
б) у складу са значењем светлосних саобраћајних знакова и правилом саобраћаја.

в) само у складу са правилом саобраћаја којим се регулише првенство пролаза.

4. У ситуацији приказаној на слици:

а) возач аутобуса је дужан да пропусти путничко возило. 2

б) возач путничког возила је дужан да пропусти аутобус.



5. Возачу путничког возила, у ситуацији приказаној на слици, дозвољено је да претиче трамвај:

а) било којом путањом. 3


б) путањом број 1.

в) путањом број 2.

6. У ситуацији приказаној на слици, возач теретног возила:

а) сме да врши претицање мотоцикла. 2

б) не сме да врши претицање мотоцикла



7. У ситуацији приказаној на слици, возач плавог путничког возила:

а) дужан је да пропусти возило из супротног смера. 2

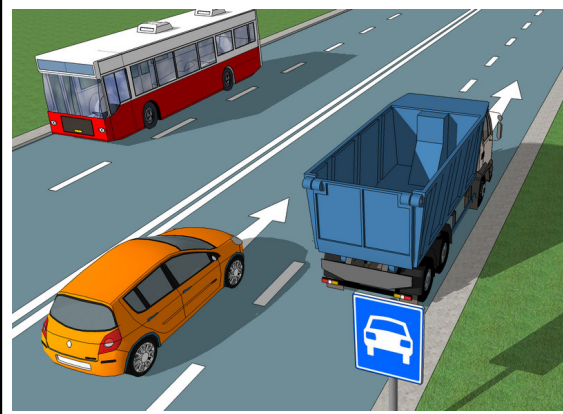
б) може да настави кретање јер има првенство пролаза у односу на возило из супротног смера

8. Првенство пролаза при мимоилажењу, у ситуацији приказаној на слици, регулисано је:

а) правилом саобраћаја. 2

б) ознакама на коловозу

в) постављеним саобраћајним знаковима.



9. Возач путничког возила приказаног на слици, дужан је да се креће брзином која није већа од:

а) 80 km/h 3

б) 100 km/h

в) 130 km/h

10. Аутобусу је, у ситуацији приказаној на слици:

а) дозвољено заустављање и паркирање. 3

б) дозвољено заустављање а забрањено паркирање.

в) забрањено заустављање и паркирање.



1. Возач путничког возила, у ситуацији приказаној на слици:
- а) има првенство пролаза у односу на трамвај и теретно возило.
 - б) дужан је да пропусти само трамвај.
 - в) дужан је да пропусти само теретно возило.

3

2. Возач путничког возила, у ситуацији приказаној на слици:
- а) креће се путем са првенством пролаза
 - б) наилази на пут са првенством пролаза
 - в) наилази на раскрсницу путева исте важности

2




3. У ситуацији приказаној на слици, возач плавог путничког возила претиче возило које је заустављено ради пропуштања пешака:
- а) прописно, с тим да је дужан да употреби звучни знак упозорења.
 - б) непрописно.
 - в) прописно.

3

4. Возач црвеног путничког возила, у ситуацији приказаној на слици, дужан је да пропусти:
- а) само пешаке који су ступили на пешачки прелаз.
 - б) пешаке који су ступили на пешачки прелаз и пешаке који показују намеру да ће ступити на пешачки прелаз

3




5. У ситуацији приказаној на слици, возач жутог путничког возила:
- а) може извршити скретање улево.
 - б) може наставити кретање право
 - в) може наставити кретање у свим смеровима.

3

6. У ситуацији приказаној на слици, возачу плавог путничког возила:
- а) није дозвољено да изврши престројавање у саобраћајну траку за скретање улево
 - б) дозвољено је да изврши престројавање у саобраћајну траку за скретање улево

2

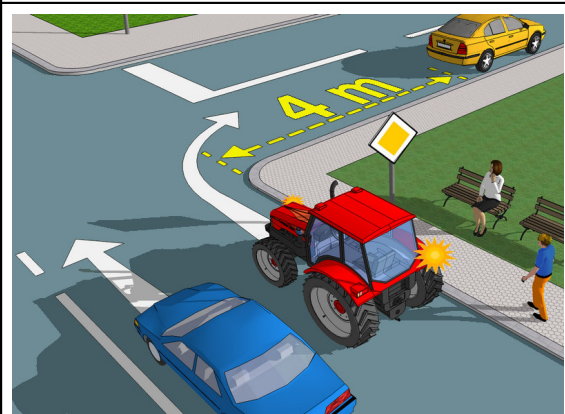


7. У ситуацији приказаној на слици, возач црвеног путничког возила:
- а) дужан је да приликом укључивања у саобраћај пропусти жуто путничко возило.
 - б) није дужан да приликом укључивања у саобраћај пропусти жуто путничко возило

2

8. У ситуацији приказаној на слици, возач плавог путничког возила је паркирао возило:
- а) прописно, на паркинг простору
 - б) непрописно, јер је дужан да возило паркира на једном паркинг месту.

2



9. У ситуацији приказаној на слици, возач плавог путничког возила претиче трактор:
- а) прописно.
 - б) непрописно, јер претицање врши на раскрсници.
 - в) непрописно, јер претицање врши са леве стране.

3

10. Жутом путничком возилу, у ситуацији приказаној на слици, забрањено је:
- а) само заустављање
 - б) само паркирање.
 - в) заустављање и паркирање.

2

	<p>1. У ситуацији приказаној на слици, возач жутог путничког возила:</p> <p>а) дужан је да пропусти возило полиције и теретно возило којем се обезбеђује пратња. <input type="checkbox"/></p> <p>б) дужан је да пропусти само возило полиције. <input type="checkbox"/></p> <p>в) има првенство пролаза у односу на возило полиције и теретно возило којем се обезбеђује пратња. <input type="checkbox"/></p>	<p>3</p>
	<p>2. У ситуацији приказаној на слици, возачи су дужни да поступају у складу са:</p> <p>а) значењем саобраћајних знакова. <input type="checkbox"/></p> <p>б) правилом саобраћаја којим се регулише првенство пролаза. <input type="checkbox"/></p>	<p>2</p>
	<p>3. Возач плавог путничког возила, у ситуацији приказаној на слици:</p> <p>а) не сме да врши претицање сивог путничког возила <input type="checkbox"/></p> <p>б) сме да врши претицање сивог путничког возила. <input type="checkbox"/></p> <p>в) сме да врши претицање сивог путничког возила, с тим да је дужан да употреби звучни знак упозорења. <input type="checkbox"/></p>	<p>3</p>
	<p>4. У ситуацији приказаној на слици, на путу ван насеља:</p> <p>а) возачи путничких возила не смеју да се крећу брзином већом од 50 km/h. <input type="checkbox"/></p> <p>б) возачима се препоручује брзина кретања од 50 km/h <input type="checkbox"/></p>	<p>2</p>
	<p>5. У ситуацији приказаној на слици, возачу плавог путничког возила је дозвољено обилажење острва:</p> <p>а) било којом путањом. <input type="checkbox"/></p> <p>б) само путањом број 1 <input type="checkbox"/></p> <p>в) само путањом број 2 <input type="checkbox"/></p>	<p>3</p>
	<p>6. У ситуацији приказаној на слици, прописно је паркирано:</p> <p>а) само црвено путничко возило <input type="checkbox"/></p> <p>б) само жуто путничко возило. <input type="checkbox"/></p> <p>в) црвено путничко возило и жуто путничко возило. <input type="checkbox"/></p>	<p>3</p>
	<p>7. У ситуацији приказаној на слици, путничко возило које скреће удесно:</p> <p>а) има предност проласка у односу на бициклисту <input type="checkbox"/></p> <p>б) дужан је да пропусти бициклисту. <input type="checkbox"/></p> <p>в) има предност проласка у односу на бициклисту, с тим да је дужан да употреби звучни знак упозорења. <input type="checkbox"/></p>	<p>3</p>
	<p>8. Возач бицикла, у ситуацији приказаној на слици:</p> <p>а) дужан је да се креће по бицикличкој траци. <input type="checkbox"/></p> <p>б) дужан је да се креће по коловозу. <input type="checkbox"/></p> <p>в) може да се креће по бицикличкој траци или по коловозу <input type="checkbox"/></p>	<p>2</p>
	<p>9. У ситуацији приказаној на слици:</p> <p>а) возач аутобуса је дужан да пропусти путничко возило. <input type="checkbox"/></p> <p>б) возач путничког возила је дужан да пропусти аутобус. <input type="checkbox"/></p>	<p>2</p>
	<p>10. Првенство пролаза, у ситуацији приказаној на слици, регулисано је:</p> <p>а) међусобним договором возача, давањем светлосног или звучног знака упозорења. <input type="checkbox"/></p> <p>б) правилом саобраћаја <input type="checkbox"/></p> <p>в) постављеним саобраћајним знаковима. <input type="checkbox"/></p>	<p>2</p>

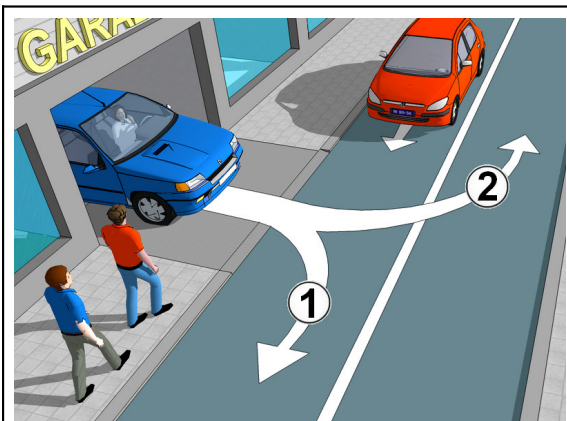
	<p>1. Путничко возило се кретањем уназад, у ситуацији приказаној на слици, прописно укључује у саобраћај:</p> <p>а) путањом број 1. <input type="checkbox"/></p> <p>б) путањом број 2. <input type="checkbox"/></p> <p>в) било којом путањом <input type="checkbox"/></p>	<p>3</p>
	<p>2. У ситуацији приказаној на слици, возач путничког возила који се укључује у саобраћај:</p> <p>а) дужан је да пропусти пешаке који се крећу тротоаром. <input type="checkbox"/></p> <p>б) није дужан да пропусти пешаке који се крећу тротоаром. <input type="checkbox"/></p> <p>в) није дужан да пропусти пешаке који се крећу тротоаром, али је дужан да употреби звучни знак упозорења <input type="checkbox"/></p>	<p>3</p>
	<p>3. Возач плавог путничког возила, у ситуацији приказаној на слици, врши претицање:</p> <p>а) прописно. <input type="checkbox"/></p> <p>б) непрописно. <input type="checkbox"/></p> <p>в) прописно, само ако не омета возила која му долазе у сусрет <input type="checkbox"/></p>	<p>3</p>
	<p>4. На прелазу пута преко железничке пруге, возач је дужан да пропусти шинско возило које се креће по железничкој прузи:</p> <p>а) да. <input type="checkbox"/></p> <p>б) да, само шинско возило које наилази са десне стране. <input type="checkbox"/></p> <p>в) не. <input type="checkbox"/></p>	<p>3</p>
	<p>5. У ситуацији приказаној на слици, возачу сивог путничког возила:</p> <p>а) дозвољено је да изврши престројавање у саобраћајну траку која се простире уз десну ивицу коловоза <input type="checkbox"/></p> <p>б) није дозвољено да изврши престројавање у саобраћајну траку која се простире уз десну ивицу коловоза <input type="checkbox"/></p>	<p>2</p>
	<p>6. У ситуацији приказаној на слици, возач жутог путничког возила:</p> <p>а) може наставити кретање у свим смеровима. <input type="checkbox"/></p> <p>б) може извршити скретање улево или наставити кретање право <input type="checkbox"/></p> <p>в) може наставити кретање право или извршити скретање удесно <input type="checkbox"/></p>	<p>3</p>
	<p>7. У ситуацији приказаној на слици, возачи су дужни да поступају у складу са:</p> <p>а) значењем саобраћајних знакова. <input type="checkbox"/></p> <p>б) правилом саобраћаја којим се регулише првенство пролаза. <input type="checkbox"/></p>	<p>2</p>
	<p>8. У ситуацији приказаној на слици:</p> <p>а) возач теретног возила је дужан да пропусти путничко возило <input type="checkbox"/></p> <p>б) возач путничког возила је дужан да пропусти теретно возило <input type="checkbox"/></p>	<p>2</p>
	<p>9. У ситуацији приказаној на слици, у случају отежаног мимоилажења, дужан је да заустави своје возило:</p> <p>а) возач трактора <input type="checkbox"/></p> <p>б) возач путничког возила. <input type="checkbox"/></p>	<p>2</p>
	<p>10. Првенство пролаза, у ситуацији приказаној на слици, регулисано је:</p> <p>а) међусобним договором возача, давањем светлосног или звучног знака упозорења. <input type="checkbox"/></p> <p>б) постављеним саобраћајним знаком. <input type="checkbox"/></p> <p>в) правилом саобраћаја. <input type="checkbox"/></p>	<p>2</p>

	<p>1. У ситуацији приказаној на слици, возач плавог путничког возила:</p> <p>а) дужан је да пропусти возило полиције <input type="checkbox"/></p> <p>б) није дужан да пропусти возило полиције, јер се налази на путу са првенством пролаза <input type="checkbox"/></p>	<p>2</p>
	<p>3. У ситуацији приказаној на слици, плаво путничко возило:</p> <p>а) сме да врши претицање колоне возила <input type="checkbox"/></p> <p>б) не сме да врши претицање колоне возила. <input type="checkbox"/></p> <p>в) сме да врши претицање колоне возила, само ако постоји довољно простора између колоне возила и возила које му долази у сусрет. <input type="checkbox"/></p>	<p>3</p>
	<p>5. У ситуацији приказаној на слици, на путу ван насеља, колона заустављених возила је означена са два сигурносна троугла који:</p> <p>а) су постављени на прописаној удаљености. <input type="checkbox"/></p> <p>б) нису постављени на прописаној удаљености. <input type="checkbox"/></p>	<p>2</p>
	<p>7. У ситуацији приказаној на слици, прописно се креће:</p> <p>а) само теретно возило <input type="checkbox"/></p> <p>б) само аутобус. <input type="checkbox"/></p> <p>в) теретно возило и аутобус <input type="checkbox"/></p>	<p>3</p>
	<p>9. У ситуацији приказаној на слици, возач жутог путничког возила је дужан да обрати пажњу:</p> <p>а) на пешаке који се крећу преко коловоза, на пешака који се креће дуж коловоза и на пешаке који се крећу на тротоару. <input type="checkbox"/></p> <p>б) на пешаке који се крећу преко коловоза и пешаке који се креће дуж коловоза <input type="checkbox"/></p> <p>в) само на пешаке који се крећу преко коловоза <input type="checkbox"/></p>	<p>3</p>
	<p>10. У ситуацији приказаној на слици, плаво путничко возило је паркирано:</p> <p>а) прописно. <input type="checkbox"/></p> <p>б) непрописно. <input type="checkbox"/></p>	<p>2</p>

	<p>1. Возачу путничког возила, у ситуацији приказаној на слици, кретање уназад је дозвољено:</p> <p>а) било којом путањом. <input type="checkbox"/></p> <p>б) само путањом број 1. <input type="checkbox"/></p> <p>в) само путањом број 2 <input type="checkbox"/></p>	<p>3</p>
	<p>2. У ситуацији приказаној на слици, возач путничког возила је, при кретању уназад, укључио све показиваче правца:</p> <p>а) прописно. <input type="checkbox"/></p> <p>б) непрописно, јер је дужан да укључи само десни показивач правца <input type="checkbox"/></p> <p>в) непрописно, јер је дужан да укључи само леви показивач правца <input type="checkbox"/></p>	<p>2</p>
	<p>3. У ситуацији приказаној на слици, возачу сивог путничког возила:</p> <p>а) није дозвољено претицање. <input type="checkbox"/></p> <p>б) дозвољено је претицање. <input type="checkbox"/></p> <p>в) дозвољено је претицање, само ако употреби звучни знак упозорења. <input type="checkbox"/></p>	<p>3</p>
	<p>4. У ситуацији приказаној на слици, плаво и жуто путничко возило паркирани су:</p> <p>а) прописно. <input type="checkbox"/></p> <p>б) непрописно. <input type="checkbox"/></p>	<p>2</p>
	<p>5. На раскрсници приказаној на слици, возачу путничког возила:</p> <p>а) дозвољено је да изврши полукружно окретање, с тим да је дужан да пропусти теретно возило <input type="checkbox"/></p> <p>б) није дозвољено да изврши полукружно окретање. <input type="checkbox"/></p> <p>в) дозвољено је да изврши полукружно окретање, само ако се може извршити без маневрисања <input type="checkbox"/></p>	<p>3</p>
	<p>6. Возач теретног возила, у ситуацији приказаној на слици:</p> <p>а) дужан је да се заустави и пропусти путничко возило које врши полукружно окретање. <input type="checkbox"/></p> <p>б) има првенство пролаза у односу на возача путничког возила који намерава да изврши полукружно окретање. <input type="checkbox"/></p>	<p>2</p>
	<p>7. У ситуацији приказаној на слици, у случају отежаног мимоилажења, дужан је да заустави своје возило:</p> <p>а) возач возила који се креће низ нагиб. <input type="checkbox"/></p> <p>б) возач возила који се креће уз нагиб <input type="checkbox"/></p> <p>в) возач чије је возило лакше. <input type="checkbox"/></p>	<p>3</p>
	<p>8. Првенство пролаза, у ситуацији приказаној на слици, регулисано је:</p> <p>а) постављеним саобраћајним знаковима. <input type="checkbox"/></p> <p>б) правилом саобраћаја. <input type="checkbox"/></p> <p>в) међусобним договором возача, давањем светлосног или звучног знака упозорења <input type="checkbox"/></p>	<p>2</p>
	<p>9. У ситуацији приказаној на слици, на путу у насељу, у времену од 7,00 до 21,00 сат, возач црвеног путничког возила дужан је да се креће брзином која није већа од:</p> <p>а) 30 km/h <input type="checkbox"/></p> <p>б) 40 km/h <input type="checkbox"/></p> <p>в) 50 km/h <input type="checkbox"/></p>	<p>3</p>
	<p>10. Плаво путничко возило, у ситуацији приказаној на слици, паркирано је:</p> <p>а) прописно, у саобраћајну траку уз десну ивицу коловоза <input type="checkbox"/></p> <p>б) непрописно, у саобраћајној траци за возила јавног превоза путника. <input type="checkbox"/></p>	<p>2</p>

	<p>1. У ситуацији приказаној на слици, возач путничког возила је дужан да при скретању пропусти:</p> <p>а) бицикlistу, пешаке који су ступили на пешачки прелаз и пешака који показује намеру да ће ступити на пешачки прелаз <input type="checkbox"/></p> <p>б) само пешаке који су ступили на пешачки прелаз. <input type="checkbox"/></p> <p>в) само бицикlistу <input type="checkbox"/></p>	<p>3</p>
	<p>2. У саобраћајној траци која је обележена натписом "симбол бицикла", приказаним на слици:</p> <p>а) забрањено је паркирање а дозвољено заустављање. <input type="checkbox"/></p> <p>б) забрањено је заустављање и паркирање. <input type="checkbox"/></p> <p>в) дозвољено је заустављање и паркирање. <input type="checkbox"/></p>	<p>3</p>
	<p>3. У ситуацији приказаној на слици, испред врха превоја, возач жутог путничког возила:</p> <p>а) сме да врши претицање, само уз употребу светлосног или звучног знака упозорења. <input type="checkbox"/></p> <p>б) не сме да врши претицање <input type="checkbox"/></p> <p>в) сме да врши претицање. <input type="checkbox"/></p>	<p>3</p>
	<p>4. Удвојена разделна неискривљена линија, приказана на слици означава:</p> <p>а) забрану преласка преко те линије или кретања по њима. <input type="checkbox"/></p> <p>б) забрану преласка преко те линије, само за спора возила. <input type="checkbox"/></p> <p>в) забрану преласка преко те линије, осим у случају претицања. <input type="checkbox"/></p>	<p>2</p>
	<p>5. У ситуацији приказаној на слици, у условима изразито смањене видљивости, возачу путничког возила:</p> <p>а) дозвољено је кретање уназад путањом број 1. <input type="checkbox"/></p> <p>б) дозвољено је кретање уназад путањом број 2 <input type="checkbox"/></p> <p>в) није дозвољено кретање уназад. <input type="checkbox"/></p>	<p>3</p>
	<p>6. У ситуацији приказаној на слици, у условима изразито смањене видљивости, на путничком возилу су укључени сви показивачи правца:</p> <p>а) прописно. <input type="checkbox"/></p> <p>б) непрописно. <input type="checkbox"/></p>	<p>2</p>
	<p>7. У ситуацији приказаној на слици, сиво путничко возило се креће:</p> <p>а) прописно, саобраћајном траком уз десну ивицу коловоза <input type="checkbox"/></p> <p>б) прописно, ако не омета возила јавног превоза путника <input type="checkbox"/></p> <p>в) непрописно, саобраћајном траком за возила јавног превоза путника. <input type="checkbox"/></p>	<p>3</p>
	<p>8. Црвено путничко возило је, у ситуацији приказаној на слици, заустављено на месту на којем је заустављање:</p> <p>а) забрањено. <input type="checkbox"/></p> <p>б) дозвољено. <input type="checkbox"/></p>	<p>2</p>
	<p>9. У ситуацији приказаној на слици, вучење мотоцикла од стране плавог путничког возила је:</p> <p>а) забрањено. <input type="checkbox"/></p> <p>б) дозвољено. <input type="checkbox"/></p> <p>в) дозвољено, само на кратком делу пута <input type="checkbox"/></p>	<p>2</p>
	<p>10. Жуто путничко возило, у ситуацији приказаној на слици, паркирано је:</p> <p>а) прописно. <input type="checkbox"/></p> <p>б) непрописно. <input type="checkbox"/></p>	<p>2</p>

	<p>1. Возач жутог путничког возила, у ситуацији приказаној на слици, на раскрсници:</p> <p>а) сме вршити полукружно окретање <input type="checkbox"/></p> <p>б) не сме вршити полукружно окретање. <input type="checkbox"/></p> <p>в) сме вршити полукружно окретање, само ако не омета друге учеснике у саобраћају. <input type="checkbox"/></p>	<p>3</p>
	<p>2. Возач плавог путничког возила, у ситуацији приказаној на слици:</p> <p>а) може извршити скретање улево. <input type="checkbox"/></p> <p>б) може наставити кретање у свим смеровима. <input type="checkbox"/></p> <p>в) може наставити кретање право или извршити скретање удесно <input type="checkbox"/></p>	<p>3</p>
	<p>3. У ситуацији приказаној на слици, возачу путничког возила:</p> <p>а) дозвољено је претицање према ознакама на коловозу. <input type="checkbox"/></p> <p>б) није дозвољено претицање према правилу саобраћаја <input type="checkbox"/></p> <p>в) није дозвољено претицање према значењу саобраћајног знака <input type="checkbox"/></p>	<p>3</p>
	<p>4. Возач теретног возила, у ситуацији приказаној на слици, дужан је:</p> <p>а) да помери своје возило ка десној ивици коловоза. <input type="checkbox"/></p> <p>б) да помери своје возило ближе разделној линији <input type="checkbox"/></p> <p>в) да се на безбедан начин помери преко десне ивичне линије <input type="checkbox"/></p>	<p>3</p>
	<p>5. У ситуацији приказаној на слици, возач плавог путничког возила:</p> <p>а) дужан је да пропусти трактор. <input type="checkbox"/></p> <p>б) није дужан да пропусти трактор јер задржава правац кретања. <input type="checkbox"/></p>	<p>2</p>
	<p>6. У ситуацији приказаној на слици, возачи су дужни да поступају у складу са:</p> <p>а) правилом саобраћаја којим се регулише првенство пролаза <input type="checkbox"/></p> <p>б) значењем саобраћајних знакова. <input type="checkbox"/></p>	<p>2</p>
	<p>7. У ситуацији приказаној на слици, возач теретног возила:</p> <p>а) дужан је да пропусти жуто путничко возило. <input type="checkbox"/></p> <p>б) има првенство пролаза у односу на жуто путничко возило. <input type="checkbox"/></p>	<p>2</p>
	<p>8. Првенство пролаза, у ситуацији приказаној на слици, регулисано је:</p> <p>а) правилом саобраћаја <input type="checkbox"/></p> <p>б) постављеним саобраћајним знаком. <input type="checkbox"/></p> <p>в) међусобним договором возача, давањем светлосног или звучног знака упозорења. <input type="checkbox"/></p>	<p>2</p>
	<p>9. Возач путничког возила који долази у сусрет заустављеном возилу у којем се врши организован превоз деце, дужан је:</p> <p>а) да се заустави за време уласка односно изласка деце из возила <input type="checkbox"/></p> <p>б) да се креће смањеном брзином уз повећану опрезност. <input type="checkbox"/></p> <p>в) да смањи брзину кретања и употреби звучни и светлосни знак упозорења. <input type="checkbox"/></p>	<p>3</p>
	<p>10. Када је возило за организован превоз деце заустављено на коловозу ради уласка или изласка деце, на њему морају бити укључени:</p> <p>а) паркирна светла. <input type="checkbox"/></p> <p>б) сви показивачи правца <input type="checkbox"/></p> <p>в) десни показивач правца <input type="checkbox"/></p>	<p>2</p>

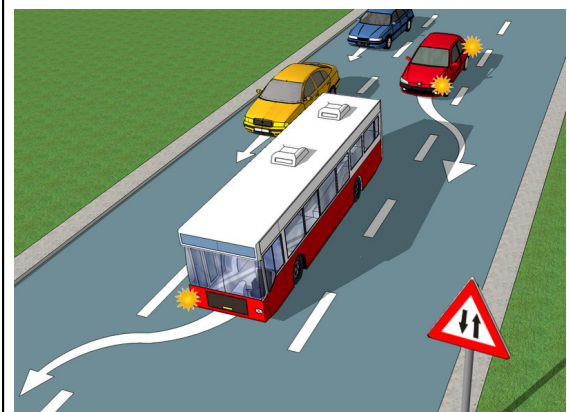


1. Возач плавог путничког возила, у ситуацији приказаној на слици, сме да се укључи у саобраћај:
- а) било којом путањом
 - б) само путањом број 1
 - в) само путањом број 2

3

2. У ситуацији приказаној на слици, возач путничког возила које се укључује у саобраћај, дужан је да пропусти:
- а) пешаке и црвено путничко возило.
 - б) само црвено путничко возило
 - в) само пешаке.

3

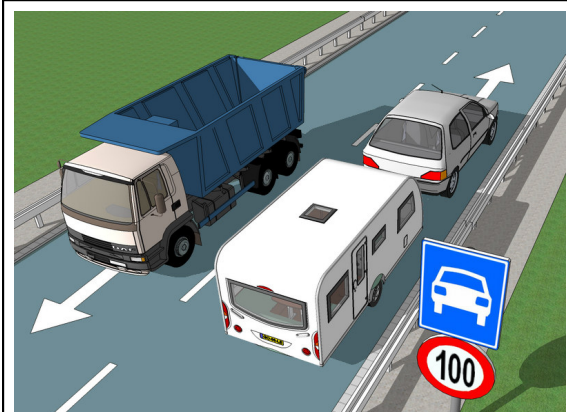


3. Црвено путничко возило, у ситуацији приказаној на слици, претиче аутобус:
- а) прописно.
 - б) непрописно.
 - в) прописно, само ако се креће дозвољеном брзином

3

4. Аутобус се, у ситуацији приказаној на слици, креће:
- а) прописно.
 - б) непрописно, јер је укључио погрешно показивач правца.
 - в) непрописно, саобраћајном траком којом није дозвољено кретање возила јавног превоза

3

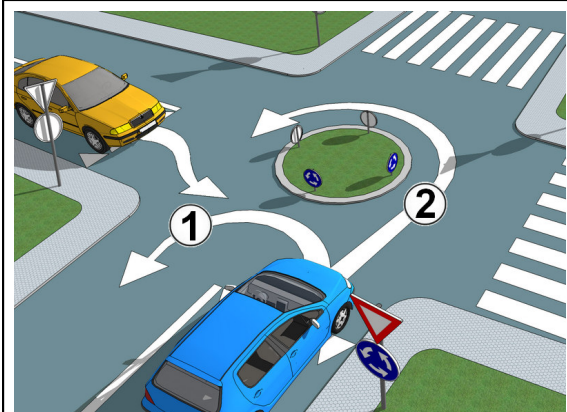


5. Возач путничког возила које вуче прикључно возило за становање, у ситуацији приказаној на слици, дужан је да се креће брзином која није већа од:
- а) 70 km/h
 - б) 80 km/h
 - в) 100 km/h

2

6. У ситуацији приказаној на слици, возач теретног возила је дужан да, при мимоилажењу, са своје леве стране остави:
- а) довољно растојања између свог возила и возила са којим се мимоилази, по потреби и да возило помери ка десној ивици коловоза.
 - б) најмање 1 m између свог возила и возила са којим се мимоилази

2

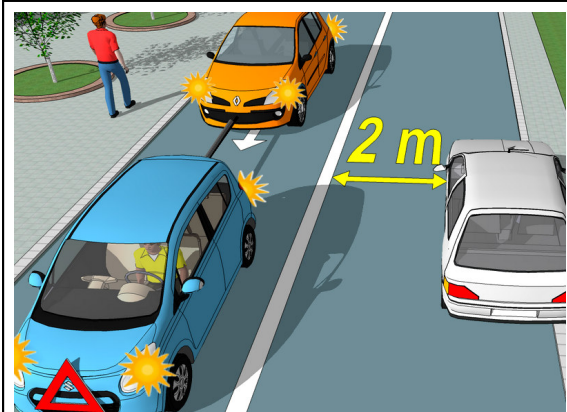


7. Возач плавог путничког возила, у ситуацији приказаној на слици, може да изврши полукружно окретање:
- а) било којом путањом.
 - б) само путањом број 1
 - в) само путањом број 2

3

8. У ситуацији приказаној на слици, приликом укључивања у раскрсницу са кружним током саобраћаја, возач жутог путничког возила:
- а) дужан је да укључи показивач правца.
 - б) није дужан да укључи показивач правца.

2



9. У ситуацији приказаној на слици, плаво путничко возило које вуче неисправно возило, има укључене све показиваче правца и постављен сигурносни троугао на предњој страни возила:
- а) прописно.
 - б) непрописно.

2

10. Сиво путничко возило, у ситуацији приказаној на слици, паркирано је:
- а) прописно.
 - б) непрописно.

2

	<p>1. Возачу аутобуса, у ситуацији приказаној на слици, дозвољено је кретање:</p> <p>а) путањом број 1. <input type="checkbox"/></p> <p>б) путањом број 2. <input type="checkbox"/></p> <p>в) било којом путањом. <input type="checkbox"/></p>	<p>3</p>
	<p>2. Возач путничког возила, у ситуацији приказаној на слици, врши скретање улево:</p> <p>а) непрописно. <input type="checkbox"/></p> <p>б) прописно, с тим да је дужан да пропусти возила која се крећу путем са првенством пролаза. <input type="checkbox"/></p>	<p>2</p>
	<p>3. Возачу плавог путничког возила, у ситуацији приказаној на слици, претицање мотоцикла је:</p> <p>а) забрањено. <input type="checkbox"/></p> <p>б) дозвољено. <input type="checkbox"/></p> <p>в) дозвољено, с тим да је дужан да употреби звучни знак упозорења. <input type="checkbox"/></p>	<p>3</p>
	<p>4. Возач жутог путничког возила, у ситуацији приказаној на слици, заустављен је:</p> <p>а) прописно, на линији прегледности. <input type="checkbox"/></p> <p>б) прописно, јер не омета пешаке који прелазе коловоз. <input type="checkbox"/></p> <p>в) непрописно, јер је дужан да се заустави непосредно пре линије заустављања. <input type="checkbox"/></p>	<p>3</p>
	<p>5. У ситуацији приказаној на слици, на путу у насељу, возило полиције:</p> <p>а) сме се кретати брзином која је већа од 50 km/h, ако тиме не угрожава безбедност других учесника у саобраћају. <input type="checkbox"/></p> <p>б) не сме се кретати брзином која је већа од 50 km/h. <input type="checkbox"/></p>	<p>2</p>
	<p>6. Жутом путничком возилу, у ситуацији приказаној на слици:</p> <p>а) забрањено је заустављање и паркирање. <input type="checkbox"/></p> <p>б) дозвољено је заустављање и паркирање. <input type="checkbox"/></p> <p>в) забрањено је само паркирање. <input type="checkbox"/></p>	<p>2</p>
	<p>7. Возач сивог путничког возила, у ситуацији приказаној на слици, креће се уназад:</p> <p>а) прописно. <input type="checkbox"/></p> <p>б) непрописно. <input type="checkbox"/></p>	<p>2</p>
	<p>8. Возач плавог путничког возила, у ситуацији приказаној на слици, дужан је:</p> <p>а) да кретање возила подеси тако да га може зауставити пред уређајем за давање знакова којима се најављује приближавање воза. <input type="checkbox"/></p> <p>б) да се заустави испред железничке пруге. <input type="checkbox"/></p> <p>в) да се креће непромењеном брзином, јер уређај за давање знакова не најављује приближавање воза. <input type="checkbox"/></p>	<p>3</p>
	<p>9. Возач плавог путничког возила, у ситуацији приказаној на слици, врши полукружно окретање:</p> <p>а) прописно. <input type="checkbox"/></p> <p>б) прописно, само ако се може извршити без маневрисања. <input type="checkbox"/></p> <p>в) непрописно. <input type="checkbox"/></p>	<p>3</p>
	<p>10. У ситуацији приказаној на слици, вучење неисправног возила код којег је разлог за вучу настао на мотопуту је:</p> <p>а) дозвољено до првог места искључења са мотопута. <input type="checkbox"/></p> <p>б) дозвољено до радионице за поправку возила. <input type="checkbox"/></p> <p>в) забрањено. <input type="checkbox"/></p>	<p>2</p>

	<p>1. Возач путничког возила, у ситуацији приказаној на слици, врши скретање улево:</p> <p>а) прописно. <input type="checkbox"/></p> <p>б) непрописно, јер је дужан да, при скретању улево, користи саобраћајну траку која се простире уз десну ивицу коловоза <input type="checkbox"/></p>	<p>2</p>
	<p>2. Возач теретног возила, у ситуацији приказаној на слици:</p> <p>а) сме наставити кретање право или извршити скретање удесно. <input type="checkbox"/></p> <p>б) сме извршити кретање у било којем правцу. <input type="checkbox"/></p> <p>в) сме наставити кретање само право <input type="checkbox"/></p>	<p>3</p>
	<p>3. Возач путничког возила, у ситуацији приказаној на слици:</p> <p>а) не сме да врши претицање теретног возила <input type="checkbox"/></p> <p>б) сме да врши претицање теретног возила. <input type="checkbox"/></p> <p>в) сме да врши претицање теретног возила, само ако такву радњу заврши испред врха превоја <input type="checkbox"/></p>	<p>3</p>
	<p>4. У ситуацији приказаној на слици, ограничење брзине кретања изражена саобраћајним знаком, примењује се:</p> <p>а) увек, без обзира на временске услове <input type="checkbox"/></p> <p>б) само када је на коловозу снег. <input type="checkbox"/></p> <p>в) када пада снег или киша. <input type="checkbox"/></p>	<p>2</p>
	<p>5. Возач путничког возила, у ситуацији приказаној на слици:</p> <p>а) дужан је да пропусти аутобус а има првенство пролаза у односу на трамвај. <input type="checkbox"/></p> <p>б) дужан је да пропусти аутобус и трамвај. <input type="checkbox"/></p> <p>в) дужан је да пропусти трамвај а има првенство пролаза у односу на аутобус. <input type="checkbox"/></p>	<p>3</p>
	<p>6. Првенство пролаза на раскрсници, у ситуацији приказаној на слици, регулисано је:</p> <p>а) међусобним договором возача. <input type="checkbox"/></p> <p>б) правилом саобраћаја. <input type="checkbox"/></p> <p>в) светлосним саобраћајним знаковима. <input type="checkbox"/></p>	<p>3</p>
	<p>7. У ситуацији приказаној на слици, на путу ван насеља, возач који се налази на коловозу ван свог возила:</p> <p>а) дужан је да носи светлодбојни прслук. <input type="checkbox"/></p> <p>б) није дужан да носи светлодбојни прслук. <input type="checkbox"/></p> <p>в) дужан је да носи светлодбојни прслук само када је ноћ и у случају смањене видљивости. <input type="checkbox"/></p>	<p>2</p>
	<p>8. Возач је, у ситуацији приказаној на слици, на заустављеном возилу на коловозу, укључио десни показивач правца:</p> <p>а) прописно. <input type="checkbox"/></p> <p>б) непрописно, јер је дужан да укључи позициона светла. <input type="checkbox"/></p> <p>в) непрописно, јер је дужан да укључи све показиваче правца. <input type="checkbox"/></p>	<p>2</p>
	<p>9. Возач путничког возила, у ситуацији приказаној на слици, претиче теретно возило:</p> <p>а) непрописно. <input type="checkbox"/></p> <p>б) прописно. <input type="checkbox"/></p> <p>в) прописно, с тим да је дужан да употреби звучни и светлосни знак упозорења <input type="checkbox"/></p>	<p>3</p>
	<p>10. У ситуацији приказаној на слици, прикључна возила на прописан начин вуче:</p> <p>а) теретно возило означено бројем 1. <input type="checkbox"/></p> <p>б) теретно возило означено бројем 2. <input type="checkbox"/></p> <p>в) оба теретна возила. <input type="checkbox"/></p>	<p>2</p>

	<p>1. У ситуацији приказаној на слици, возачу плавог путничког возила скретање улево је:</p> <p>а) забрањено.</p> <p>б) дозвољено, с тим да је дужан да пропусти возила која се налазе на путу са првенством пролаза.</p> <p>в) дозвољено, с тим да је дужан да пропусти возила која му долазе у сусрет.</p>	<p><input type="checkbox"/> 3</p> <p><input type="checkbox"/></p> <p><input type="checkbox"/></p>
	<p>3. Возач теретног возила, у ситуацији приказаној на слици:</p> <p>а) не сме да врши претицање путничког возила.</p> <p>б) сме да врши претицање путничког возила.</p> <p>в) сме да врши претицање путничког возила, само ако се то возило креће изузетно споро.</p>	<p><input type="checkbox"/> 3</p> <p><input type="checkbox"/></p> <p><input type="checkbox"/></p>
	<p>4. У ситуацији приказаној на слици, брже кретање возила у саобраћајној траци 1, у односу на возила која се крећу у саобраћајној траци 2:</p> <p>а) сматра се претицањем.</p> <p>б) не сматра се претицањем.</p>	<p><input type="checkbox"/> 2</p> <p><input type="checkbox"/></p>
	<p>5. У ситуацији приказаној на слици, саобраћајним знаком је означена:</p> <p>а) зона школе.</p> <p>б) пешачка зона.</p> <p>в) зона успореног саобраћаја.</p>	<p><input type="checkbox"/> 2</p> <p><input type="checkbox"/></p> <p><input type="checkbox"/></p>
	<p>6. Возач путничког возила, у ситуацији приказаној на слици, обавезан је да се креће:</p> <p>а) брзином кретања пешака, а највише 5 km/h.</p> <p>б) брзином кретања пешака, а највише 10 km/h.</p> <p>в) смањеном брзином, а највише 30 km/h.</p>	<p><input type="checkbox"/> 3</p> <p><input type="checkbox"/></p> <p><input type="checkbox"/></p>
	<p>7. У ситуацији приказаној на слици, на аутопуту, возач путничког возила се прописно искључује:</p> <p>а) путањом број 1.</p> <p>б) путањом број 2.</p> <p>в) било којом путањом.</p>	<p><input type="checkbox"/> 2</p> <p><input type="checkbox"/></p> <p><input type="checkbox"/></p>
	<p>8. У ситуацији приказаној на слици, на аутопуту, возач аутобуса се креће крајњом левом саобраћајном траком:</p> <p>а) прописно, јер не омета друге учеснике у саобраћају.</p> <p>б) непрописно.</p> <p>в) прописно, јер су коловозне траке по смеровима физички одвојене.</p>	<p><input type="checkbox"/> 2</p> <p><input type="checkbox"/></p> <p><input type="checkbox"/></p>
	<p>9. Возач плавог путничког возила, у ситуацији приказаној на слици, на путу који није аутопут и мотопут, врши полукружно окретање:</p> <p>а) прописно.</p> <p>б) прописно, само ако се може извршити без маневрисања.</p> <p>в) непрописно.</p>	<p><input type="checkbox"/> 3</p> <p><input type="checkbox"/></p> <p><input type="checkbox"/></p>
	<p>10. У ситуацији приказаној на слици, одстојање између вучног и вученог возила која се вуку помоћу ужета, мора бити:</p> <p>а) више од 5 m.</p> <p>б) од 3 m до 5 m.</p> <p>в) од 2 m до 3 m.</p>	<p><input type="checkbox"/> 3</p> <p><input type="checkbox"/></p> <p><input type="checkbox"/></p>

	<p>1. У ситуацији приказаној на слици, возачи су дужни да поступају у складу са:</p> <p>а) значењем саобраћајних знакова и правилем саобраћаја. <input type="checkbox"/></p> <p>б) значењем саобраћајних знакова. <input type="checkbox"/></p> <p>в) значењем светлосних саобраћајних знакова и правилем саобраћаја. <input type="checkbox"/></p>	<p>3</p>
	<p>3. Саобраћајни знак, у ситуацији приказаној на слици, забрањује претицање:</p> <p>а) свим теретним возилима <input type="checkbox"/></p> <p>б) само теретним возилима чија највећа дозвољена маса прелази 3500 kg. <input type="checkbox"/></p> <p>в) само теретним возилима чија највећа дозвољена маса прелази 7500 kg. <input type="checkbox"/></p>	<p>2</p>
	<p>5. Возач жутог путничког возила, у ситуацији приказаној на слици, креће се:</p> <p>а) прописно, уз десну ивицу коловоза. <input type="checkbox"/></p> <p>б) непрописно, јер је дужан да се креће уз разделну линију. <input type="checkbox"/></p> <p>в) непрописно, јер је дужан да се креће средином своје саобраћајне траке. <input type="checkbox"/></p>	<p>3</p>
	<p>7. Возач плавог путничког возила, у ситуацији приказаној на слици, искључује се са аутопута:</p> <p>а) непрописно. <input type="checkbox"/></p> <p>б) прописно. <input type="checkbox"/></p>	<p>2</p>
	<p>9. Возач плавог путничког возила, у ситуацији приказаној на слици, у тунелу:</p> <p>а) сме да врши претицање, с тим да је дужан да употреби светлосни и звучни знак упозорења. <input type="checkbox"/></p> <p>б) сме да врши претицање. <input type="checkbox"/></p> <p>в) не сме да врши претицање. <input type="checkbox"/></p>	<p>3</p>
	<p>10. Црвеном путничком возилу, у ситуацији приказаној на слици, у тунелу:</p> <p>а) забрањено је заустављање и паркирање. <input type="checkbox"/></p> <p>б) дозвољено је заустављање а забрањено паркирање. <input type="checkbox"/></p> <p>в) дозвољено је заустављање и паркирање. <input type="checkbox"/></p>	<p>3</p>

	<p>1. Возач црвеног путничког возила, у ситуацији приказаној на слици:</p> <p>а) дужан је да пропусти само жуто путничко возило. <input type="checkbox"/></p> <p>б) дужан је да пропусти само плаво путничко возило. <input type="checkbox"/></p> <p>в) дужан је да пропусти оба путничка возила. <input type="checkbox"/></p>	<p>3</p>
	<p>2. У ситуацији приказаној на слици, возачи су дужни да поступају:</p> <p>а) у складу са значењем светлосних саобраћајних знакова и правилном саобраћаја. <input type="checkbox"/></p> <p>б) у складу са знацима које даје овлашћено лице и правилном саобраћаја. <input type="checkbox"/></p>	<p>2</p>
	<p>3. У ситуацији приказаној на слици, дању, на путу у насељу, на путничком возилу:</p> <p>а) не морају бити укључена светла. <input type="checkbox"/></p> <p>б) морају бити укључена кратка, односно дневна светла. <input type="checkbox"/></p> <p>в) морају бити укључена дуга светла. <input type="checkbox"/></p>	<p>2</p>
	<p>4. Возач теретног возила, у ситуацији приказаној на слици:</p> <p>а) може наставити кретање у свим смеровима. <input type="checkbox"/></p> <p>б) може наставити кретање само право. <input type="checkbox"/></p> <p>в) може наставити кретање право или извршити скретање удесно. <input type="checkbox"/></p>	<p>3</p>
	<p>5. У ситуацији приказаној на слици, путничком возилу је забрањено:</p> <p>а) само паркирање. <input type="checkbox"/></p> <p>б) само заустављање. <input type="checkbox"/></p> <p>в) заустављање и паркирање. <input type="checkbox"/></p>	<p>2</p>
	<p>6. У зони приказаној на слици, возилима је:</p> <p>а) дозвољено кретање, с тим да се морају кретати брзином кретања пешака а највише 10 km/h <input type="checkbox"/></p> <p>б) забрањено кретање. <input type="checkbox"/></p> <p>в) дозвољено кретање. <input type="checkbox"/></p>	<p>2</p>
	<p>7. Возач сивог путничког возила, у ситуацији приказаној на слици, прописно се укључује на аутопут:</p> <p>а) путањом број 1. <input type="checkbox"/></p> <p>б) путањом број 2. <input type="checkbox"/></p> <p>в) било којом путањом. <input type="checkbox"/></p>	<p>2</p>
	<p>8. У ситуацији приказаној на слици, на аутопуту, возач плавог путничког возила не сме се кретати брзином већом од:</p> <p>а) 80 km/h <input type="checkbox"/></p> <p>б) 100 km/h. <input type="checkbox"/></p> <p>в) 130 km/h. <input type="checkbox"/></p>	<p>3</p>
	<p>9. Возач жутог путничког возила, у ситуацији приказаној на слици, у тунелу:</p> <p>а) сме да врши претицање. <input type="checkbox"/></p> <p>б) не сме да врши претицање. <input type="checkbox"/></p> <p>в) сме да врши претицање, с тим да је дужан да употреби светлосни и звучни знак упозорења. <input type="checkbox"/></p>	<p>3</p>
	<p>10. У ситуацији приказаној на слици, у тунелу, плаво путничко возило се креће уназад:</p> <p>а) прописно, ако се тиме не угрожавају други учесници у саобраћају. <input type="checkbox"/></p> <p>б) непрописно. <input type="checkbox"/></p> <p>в) прописно, само ако се врши на кратком делу пута. <input type="checkbox"/></p>	<p>3</p>

	<p>1. Према знаку полицијског службеника, у ситуацији приказаној на слици, возач плавог путничког возила:</p> <p>а) дужан је да заустави своје возило <input type="checkbox"/></p> <p>б) може да настави кретање кроз раскрсницу. <input type="checkbox"/></p> <p>в) може да настави кретање кроз раскрсницу, али је дужан да пропусти црвено и жуто путничко возило. <input type="checkbox"/></p>	<p>3</p>
	<p>3. Возач плавог путничког возила, у ситуацији приказаној на слици:</p> <p>а) сме да врши претицање жутог путничког возила. <input type="checkbox"/></p> <p>б) не сме да врши претицање жутог путничког возила, јер му то није дозвољено ознакама на коловозу. <input type="checkbox"/></p> <p>в) не сме да врши претицање жутог путничког возила, јер му то није дозвољено саобраћајним знаком. <input type="checkbox"/></p>	<p>3</p>
	<p>5. Возач плавог путничког возила, у ситуацији приказаној на слици, зауставио је своје возило:</p> <p>а) прописно. <input type="checkbox"/></p> <p>б) непрописно. <input type="checkbox"/></p>	<p>2</p>
	<p>7. У ситуацији приказаној на слици, на путу у насељу, жуто путничко возило се креће:</p> <p>а) прописно. <input type="checkbox"/></p> <p>б) непрописно. <input type="checkbox"/></p>	<p>2</p>
	<p>8. У ситуацији приказаној на слици, на путу у насељу, возило полиције се:</p> <p>а) сме кретати брзином која је већа од 50 km/h, ако тиме не угрожава безбедност других учесника у саобраћају <input type="checkbox"/></p> <p>б) не сме кретати брзином која је већа од 50 km/h. <input type="checkbox"/></p>	<p>2</p>
	<p>9. Возач жутог путничког возила, у ситуацији приказаној на слици, врши скретање улево:</p> <p>а) прописно, с тим да је дужан да пропусти само пешаке. <input type="checkbox"/></p> <p>б) прописно, с тим да је дужан да пропусти плаво путничко возило и пешаке. <input type="checkbox"/></p> <p>в) непрописно. <input type="checkbox"/></p>	<p>3</p>
	<p>10. У ситуацији приказаној на слици, возач плавог путничког возила:</p> <p>а) не сме ући у раскрсницу јер ће се због густине саобраћаја зауставити на раскрсници. <input type="checkbox"/></p> <p>б) сме ући у раскрсницу јер му је светлосним сигналом на семафору то дозвољено. <input type="checkbox"/></p>	<p>2</p>

	<p>1. Возач путничког возила, у ситуацији приказаној на слици:</p> <p>а) дужан је да пропусти аутобус и трамвај. <input type="checkbox"/></p> <p>б) има првенство пролаза у односу на аутобус и трамвај. <input type="checkbox"/></p> <p>в) дужан је да пропусти трамвај а има првенство пролаза у односу на аутобус. <input type="checkbox"/></p>	<p>3</p>
	<p>2. У ситуацији приказаној на слици, возачи су дужни да поступају:</p> <p>а) у складу са значењем саобраћајних знакова и правилом саобраћаја. <input type="checkbox"/></p> <p>б) само у складу са значењем саобраћајних знакова. <input type="checkbox"/></p> <p>в) у складу са правилом саобраћаја и ознакама на коловозу. <input type="checkbox"/></p>	<p>3</p>
	<p>3. Возач жутог путничког возила, у ситуацији приказаној на слици:</p> <p>а) може прећи преко железничке пруге уколико постоји довољно простора испод браника који је почео да се спушта. <input type="checkbox"/></p> <p>б) дужан је да се заустави испред браника који је почео да се спушта. <input type="checkbox"/></p>	<p>2</p>
	<p>4. Светлосни саобраћајни знак, приказан на слици:</p> <p>а) обавештава возаче да могу прећи преко железничке пруге уз повећану опрезност. <input type="checkbox"/></p> <p>б) означава приближавање воза и спуштање браника. <input type="checkbox"/></p> <p>в) означава наилазак на семафорисану раскрсницу. <input type="checkbox"/></p>	<p>3</p>
	<p>5. У ситуацији приказаној на слици, возач плавог путничког возила врши полукружно окретање:</p> <p>а) прописно, из саобраћајне траке уз разделну линију, с тим да је дужан да пропусти возила из супротног смера. <input type="checkbox"/></p> <p>б) прописно, уколико се може извести без маневрисања. <input type="checkbox"/></p> <p>в) непрописно. <input type="checkbox"/></p>	<p>3</p>
	<p>6. Возач жутог путничког возила, у ситуацији приказаној на слици:</p> <p>а) сме да врши претицање. <input type="checkbox"/></p> <p>б) не сме да врши претицање. <input type="checkbox"/></p> <p>в) сме да врши претицање, с тим да је дужан да употреби звучни знак упозорења. <input type="checkbox"/></p>	<p>3</p>
	<p>7. У ситуацији приказаној на слици, прикључна возила на прописан начин вуче:</p> <p>а) теретно возило означено бројем 1. <input type="checkbox"/></p> <p>б) теретно возило означено бројем 2. <input type="checkbox"/></p> <p>в) оба теретна возила. <input type="checkbox"/></p>	<p>2</p>
	<p>8. У ситуацији приказаној на слици, путничко возило је због неисправности принудно заустављено:</p> <p>а) прописно, у зауставној траци. <input type="checkbox"/></p> <p>б) непрописно. <input type="checkbox"/></p>	<p>2</p>
	<p>9. У ситуацији приказаној на слици, ноћу, возач сивог путничког возила је дужан да, при мимоилажењу, уместо дугих светала употреби кратка:</p> <p>а) када оцени да светлом свог возила заслепљује возача возила које му долази у сусрет, а обавезно на одстојању мањем од 200 m. <input type="checkbox"/></p> <p>б) на одстојању мањем од 250 m од возила које му долази у сусрет. <input type="checkbox"/></p>	<p>2</p>
	<p>10. Паркирано жуто путничко возило, у ситуацији приказаној на слици, ноћу, мора имати укључена:</p> <p>а) позициона, односно паркирна светла. <input type="checkbox"/></p> <p>б) кратка светла. <input type="checkbox"/></p> <p>в) габаритна светла. <input type="checkbox"/></p>	<p>2</p>

	<p>1. Возач путничког возила, у ситуацији приказаној на слици:</p> <p>а) може наставити кретање непромењеном брзином јер има првенство пролаза у односу на аутобус.</p> <p>б) дужан је да прилагоди брзину кретања тако да може безбедно да заустави возило како не би угрозио лица која улазе односно излазе из аутобуса.</p> <p>в) дужан је да се заустави док лица улазе односно излазе из аутобуса.</p>	<input type="checkbox"/> <input type="checkbox"/> <input type="checkbox"/>	<p>3</p>
	<p>2. У ситуацији приказаној на слици, теретно возило се креће:</p> <p>а) прописно, уз разделну линију.</p> <p>б) прописно, десном саобраћајном траком.</p> <p>в) непрописно.</p>	<input type="checkbox"/> <input type="checkbox"/> <input type="checkbox"/>	<p>2</p>
	<p>3. У ситуацији приказаној на слици, возач црвеног путничког возила:</p> <p>а) дужан је да пропусти плаво путничко возило.</p> <p>б) има првенство пролаза у односу на плаво путничко возило.</p>	<input type="checkbox"/> <input type="checkbox"/>	<p>2</p>
	<p>4. Возачу жутог путничког возила, у ситуацији приказаној на слици, претицање је:</p> <p>а) забрањено, јер се врши са десне стране.</p> <p>б) дозвољено.</p> <p>в) дозвољено, с тим да је дужан употреби звучни и светлосни знак упозорења.</p>	<input type="checkbox"/> <input type="checkbox"/> <input type="checkbox"/>	<p>3</p>
	<p>5. У ситуацији приказаној на слици, наизменично паљење два округла светла који се дају на светлосном саобраћајном знаку, означава:</p> <p>а) дозвољен пролаз преко пруге поред браника уз повећану опрезност.</p> <p>б) наилазак на семафорисану раскрсницу.</p> <p>в) да је браник у спуштеном положају и најављује приближавање воза.</p>	<input type="checkbox"/> <input type="checkbox"/> <input type="checkbox"/>	<p>3</p>
	<p>6. Возач жутог путничког возила, у ситуацији приказаној на слици:</p> <p>а) може прећи преко железничке пруге поред браника уколико се увери да то може урадити безбедно.</p> <p>б) дужан је да се заустави испред браника.</p>	<input type="checkbox"/> <input type="checkbox"/>	<p>2</p>
	<p>7. У ситуацији приказаној на слици, возач путничког возила:</p> <p>а) сме да врши полукружно окретање, ако тиме не омета друге учеснике у саобраћају.</p> <p>б) не сме да врши полукружно окретање.</p> <p>в) сме да врши полукружно окретање, ако се та радња може извршити без маневрисања.</p>	<input type="checkbox"/> <input type="checkbox"/> <input type="checkbox"/>	<p>3</p>
	<p>8. У ситуацији приказаној на слици, теретно возило се креће:</p> <p>а) прописно, саобраћајном траком за спора возила.</p> <p>б) прописно, крајњом десном саобраћајном траком.</p> <p>в) непрописно.</p>	<input type="checkbox"/> <input type="checkbox"/> <input type="checkbox"/>	<p>3</p>
	<p>9. У ситуацији приказаној на слици, возач из чијег возила излазе путници, укључио је све показиваче правца:</p> <p>а) прописно.</p> <p>б) непрописно, јер је дужан да укључи паркирна светла.</p> <p>в) непрописно, јер је дужан да укључи десни показивач правца.</p>	<input type="checkbox"/> <input type="checkbox"/> <input type="checkbox"/>	<p>2</p>
	<p>10. У ситуацији приказаној на слици, црвеном путничком возилу је:</p> <p>а) дозвољено само заустављање.</p> <p>б) забрањено заустављање и паркирање.</p> <p>в) дозвољено заустављање и паркирање.</p>	<input type="checkbox"/> <input type="checkbox"/> <input type="checkbox"/>	<p>2</p>

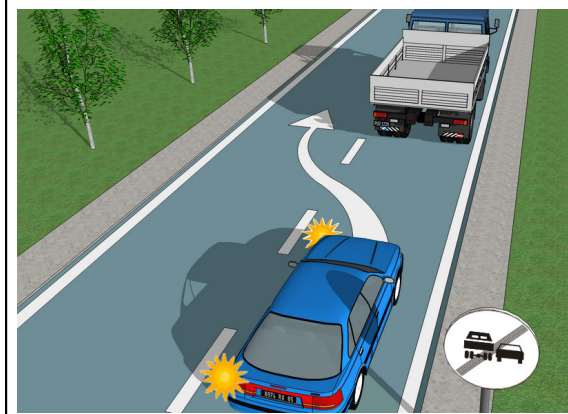


1. У ситуацији приказаној на слици, возач путничког возила:
- а) дужан је да смањи брзину кретања и по потреби се заустави, ради омогућавања укључивања аутобуса у саобраћај.
 - б) дужан је да се заустави, док се аутобус не укључи у саобраћај.
 - в) може да настави кретање непромењеном брзином јер има првенство пролаза у односу на аутобус.

3

2. У ситуацији приказаној на слици, возач теретног возила се креће:
- а) прописно, уз десну ивицу коловоза.
 - б) непрописно, јер је дужан да се креће уз разделну линију.

2




3. Возач путничког возила, у ситуацији приказаној на слици:
- а) сме да врши претицање.
 - б) не сме да врши претицање.
 - в) сме да врши претицање само ако постигне довољно убрзање.

3

4. У ситуацији приказаној на слици, возач теретног возила које се претиче, дужан је да се креће:
- а) што ближе разделној линији.
 - б) средином коловоза.
 - в) што ближе десној ивици коловоза.

3

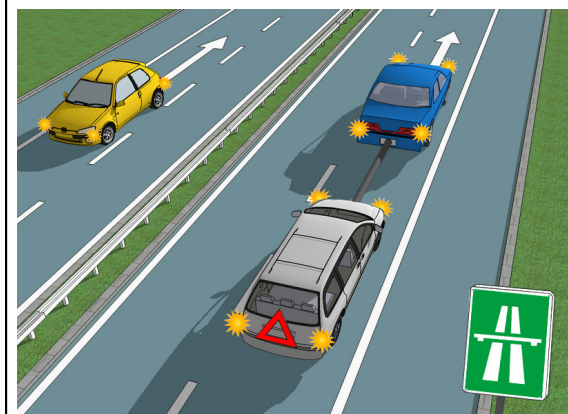


5. Возач путничког возила, у ситуацији приказаној на слици:
- а) дужан је да пропусти аутобус а има првенство пролаза у односу на трамвај.
 - б) дужан је да пропусти аутобус и трамвај.

2

6. У ситуацији приказаној на слици, возачи су дужни да поступају:
- а) у складу са значењем саобраћајних знакова и правилом саобраћаја.
 - б) само у складу са значењем саобраћајних знакова.

2




7. У ситуацији приказаној на слици, вучење неисправног возила код којег је разлог за вучу настао на аутопуту је:
- а) дозвољено до првог места искључења са аутопута.
 - б) дозвољено до радионице за поправку возила.
 - в) забрањено.

2

8. У ситуацији приказаној на слици, жуто путничко возило се креће уназад:
- а) непрописно.
 - б) прописно, само ако се врши на кратком делу пута.
 - в) прописно, ако се тиме не угрожавају други учесници у саобраћају.

3



9. Возач путничког возила, у ситуацији приказаној на слици:
- а) не сме да врши полукружно окретање.
 - б) сме да врши полукружно окретање.
 - в) сме да врши полукружно окретање само ако може бити изведено без маневрисања.

3

10. На путничком возилу, у ситуацији приказаној на слици, у тунелу, ноћу, возач је дужан да употребљава:
- а) дуга или кратка светла.
 - б) кратка светла.
 - в) дуга светла.

2

	<p>1. Возач плавог путничког возила, у ситуацији приказаној на слици:</p> <p>а) може извршити нагло скретање удесно, јер је укључио десни показивач правца.</p> <p>б) не може извршити нагло скретање удесно.</p> <p>в) може извршити нагло скретање удесно, с тим да је дужан да укључи звучни знак упозорења.</p>	<input type="checkbox"/> 3 <input type="checkbox"/> <input type="checkbox"/>
	<p>3. У ситуацији приказаној на слици, возач путничког возила:</p> <p>а) има првенство пролаза у односу на шинско возило јер долази са његове десне стране.</p> <p>б) дужан је да пропусти шинско возило.</p>	<input type="checkbox"/> 2 <input type="checkbox"/>
	<p>4. Првенство пролаза, у ситуацији приказаној на слици, регулисано је:</p> <p>а) постављеним саобраћајним знаком.</p> <p>б) правилом саобраћаја.</p> <p>в) међусобним договором возача.</p>	<input type="checkbox"/> 2 <input type="checkbox"/> <input type="checkbox"/>
	<p>5. У ситуацији приказаној на слици, плаво путничко је заустављено на аутопуту:</p> <p>а) прописно, јер су укључени сви показивачи правца.</p> <p>б) непрописно.</p> <p>в) прописно, јер не омета саобраћај других возила.</p>	<input type="checkbox"/> 3 <input type="checkbox"/> <input type="checkbox"/>
	<p>6. Возач црвеног путничког возила, који се према ситуацији приказаној на слици укључује на аутопут:</p> <p>а) дужан је да пропусти жуто путничко возило које се креће аутопутем.</p> <p>б) има првенство пролаза у односу на жуто путничко возило које се креће аутопутем јер наилази са његове десне стране.</p>	<input type="checkbox"/> 2 <input type="checkbox"/>
	<p>7. Возач плавог путничког возила, у ситуацији приказаној на слици:</p> <p>а) сме да врши претицање мотоцикла.</p> <p>б) не сме да врши претицање мотоцикла.</p> <p>в) сме да врши претицање мотоцикла, само ако се мотоцикл креће изузетно споро.</p>	<input type="checkbox"/> 3 <input type="checkbox"/> <input type="checkbox"/>
	<p>8. У ситуацији приказаној на слици, скретање удесно:</p> <p>а) сме да врши возач жутог путничког возила.</p> <p>б) сме да врши возач аутобуса.</p> <p>в) сме да врше возач аутобуса и возач жутог путничког возила.</p>	<input type="checkbox"/> 2 <input type="checkbox"/> <input type="checkbox"/>
	<p>9. У ситуацији приказаној на слици, црвено путничко возило је паркирано:</p> <p>а) прописно, уз десну ивицу коловоза.</p> <p>б) прописно, само ако не омета саобраћај бициклиста.</p> <p>в) непрописно.</p>	<input type="checkbox"/> 3 <input type="checkbox"/> <input type="checkbox"/>
	<p>10. У ситуацији приказаној на слици, дању, на путу у насељу, на плавом путничком возилу морају бити укључена:</p> <p>а) кратка, односно дневна светла.</p> <p>б) дуга светла.</p> <p>в) само позициона светла.</p>	<input type="checkbox"/> 2 <input type="checkbox"/> <input type="checkbox"/>

	<p>1. Возач путничког возила, у ситуацији приказаној на слици:</p> <p>а) дужан је да пропусти аутобус а има првенство пролаза у односу на трамвај.</p> <p>б) дужан је да пропусти трамвај а има првенство пролаза у односу на аутобус.</p> <p>в) дужан је да пропусти аутобус и трамвај.</p>	<input type="checkbox"/> <input type="checkbox"/> <input type="checkbox"/>	<p>3</p>
	<p>3. Возач сивог путничког возила, дужан је да поступи по наредби израженој на саобраћајном знаку са слике:</p> <p>а) од места на коме је постављен тај знак, у дужини од 200 m.</p> <p>б) на удаљености од 200 m од места на коме је постављен тај знак.</p>	<input type="checkbox"/> <input type="checkbox"/>	<p>2</p>
	<p>5. У ситуацији приказаној на слици:</p> <p>а) прописно је паркирано жуто путничко возило.</p> <p>б) прописно је паркирано црвено путничко возило.</p> <p>в) оба путничка возила су прописно паркирана.</p>	<input type="checkbox"/> <input type="checkbox"/> <input type="checkbox"/>	<p>3</p>
	<p>7. Возач сивог путничког возила, у ситуацији приказаној на слици, може се кретати:</p> <p>а) само путањом број 2.</p> <p>б) само путањом број 1.</p> <p>в) било којом путањом.</p>	<input type="checkbox"/> <input type="checkbox"/> <input type="checkbox"/>	<p>3</p>
	<p>9. Возач возила које је принудно заустављено, у ситуацији приказаној на слици, укључио је десни показивач правца:</p> <p>а) прописно.</p> <p>б) непрописно, јер је дужан да укључи позициона светла.</p> <p>в) непрописно, јер је дужан да укључи све показиваче правца.</p>	<input type="checkbox"/> <input type="checkbox"/> <input type="checkbox"/>	<p>2</p>
	<p>10. У ситуацији приказаној на слици, на путу у насељу, сигурносни троугао:</p> <p>а) постаљен је на прописаној удаљености.</p> <p>б) није постаљен на прописаној удаљености.</p>	<input type="checkbox"/> <input type="checkbox"/>	<p>2</p>

	<p>1. У ситуацији приказаној на слици, возач жутог путничког возила сме да изврши скретање улево:</p> <p>а) да. <input type="checkbox"/></p> <p>б) да, при чему је дужан да пропусти плаво путничко возило. <input type="checkbox"/></p> <p>в) не. <input type="checkbox"/></p>	<p>3</p>
	<p>2. У ситуацији приказаној на слици, возач жутог путничког возила:</p> <p>а) није дужан да се заустави испред саобраћајног знака „укрштање са путем са првенством пролаза” <input type="checkbox"/></p> <p>б) дужан је да се заустави испред саобраћајног знака „укрштање са путем са првенством пролаза” и пропусти возила која се крећу путем на који он наилази. <input type="checkbox"/></p> <p>3. Возач путничког возила, у ситуацији приказаној на слици, дужан је да поступи:</p> <p>а) само у складу са правилом саобраћаја о првенству пролаза. <input type="checkbox"/></p> <p>б) само у складу са значењем саобраћајних знакова. <input type="checkbox"/></p> <p>в) у складу са правилом саобраћаја о првенству пролаза и значењем саобраћајних знакова. <input type="checkbox"/></p> <p>4. Возач путничког возила, у ситуацији приказаној на слици:</p> <p>а) дужан је да пропусти возило ватрогасне службе а има првенство пролаза у односу на трамвај. <input type="checkbox"/></p> <p>б) дужан је да пропусти оба возила. <input type="checkbox"/></p> <p>в) има првенство пролаза у односу на оба возила. <input type="checkbox"/></p>	<p>2</p> <p>3</p> <p>3</p>
	<p>5. У ситуацији приказаној на слици, возач црвеног путничког возила је зауставио своје возило:</p> <p>а) прописно, јер је укључио све показиваче правца. <input type="checkbox"/></p> <p>б) прописно, јер не омета прелазак пешака преко коловоза. <input type="checkbox"/></p> <p>в) непрописно. <input type="checkbox"/></p> <p>6. У ситуацији приказаној на слици, возач теретног возила:</p> <p>а) дужан је да пропусти пешаке. <input type="checkbox"/></p> <p>б) није дужан да пропусти пешаке. <input type="checkbox"/></p> <p>в) дужан је да звучним знаком упозори пешаке. <input type="checkbox"/></p>	<p>2</p> <p>3</p>
	<p>7. Возач сивог путничког возила, у ситуацији приказаној на слици:</p> <p>а) обавезан је да на првој раскрсници изврши скретање улево. <input type="checkbox"/></p> <p>б) не сме на првој раскрсници да изврши скретање улево. <input type="checkbox"/></p> <p>8. У ситуацији приказаној на слици, возач жутог путничког возила нагло је успорио своје возило и започео скретање удесно:</p> <p>а) прописно, јер тиме не омета друге учеснике у саобраћају. <input type="checkbox"/></p> <p>б) непрописно. <input type="checkbox"/></p> <p>в) прописно, јер постоји довољно простора за безбедно извођење тих радњи. <input type="checkbox"/></p>	<p>2</p> <p>3</p>
	<p>9. Према ситуацији приказаној на слици, поступак пролажења путничког возила поред заустављеног теретног возила је:</p> <p>а) претицање. <input type="checkbox"/></p> <p>б) мимоилажење. <input type="checkbox"/></p> <p>в) обилажење. <input type="checkbox"/></p> <p>10. У ситуацији приказаној на слици, сигурносни троугао:</p> <p>а) није постављен на прописаној удаљености иза принудно заустављеног возила. <input type="checkbox"/></p> <p>б) постаљен је иза принудно заустављеног возила на прописаној удаљености. <input type="checkbox"/></p>	<p>2</p> <p>2</p>

	<p>1. У ситуацији приказаној на слици, возач путничког возила:</p> <p>a) не сме да изврши скретање улево. <input type="checkbox"/></p> <p>b) сме да изврши скретање улево, при чему није дужан да пропусти трамвај. <input type="checkbox"/></p> <p>v) сме да изврши скретање улево, при чему је дужан да пропусти трамвај. <input type="checkbox"/></p>	<p>3</p>
	<p>3. У ситуацији приказаној на слици, путничко возило које на путу вуче неисправно возило мора се кретати брзином која није већа од:</p> <p>a) 50 km/h. <input type="checkbox"/></p> <p>b) 40 km/h. <input type="checkbox"/></p> <p>v) 60 km/h. <input type="checkbox"/></p>	<p>3</p>
	<p>5. Возач плавог путничког возила, у ситуацији приказаној на слици:</p> <p>a) дужан је да пропусти возило хитне медицинске помоћи а има првенство пролаза у односу на возило ватрогасне службе. <input type="checkbox"/></p> <p>b) дужан је да пропусти оба возила. <input type="checkbox"/></p> <p>v) има првенство пролаза у односу на оба возила. <input type="checkbox"/></p>	<p>3</p>
	<p>7. У ситуацији приказаној на слици, на уласку у непрегледну кривину, возач путничког возила:</p> <p>a) дужан је да употреби светлосни знак упозорења. <input type="checkbox"/></p> <p>b) дужан је да употреби звучни знак упозорења. <input type="checkbox"/></p> <p>v) није дужан да употреби светлосни или звучни знак упозорења. <input type="checkbox"/></p>	<p>2</p>
	<p>9. У ситуацији приказаној на слици, када је крајњом десном саобраћајном траком онемогућен саобраћај, возач жутог путничког возила:</p> <p>a) дужан је да омогући укључивање једног возила у саобраћајну траку којом се креће. <input type="checkbox"/></p> <p>b) дужан је да омогући укључивање оба возила у саобраћајну траку којом се креће. <input type="checkbox"/></p> <p>v) није дужан да омогући укључивање возила у саобраћајну траку којом се креће. <input type="checkbox"/></p>	<p>3</p>
	<p>10. У ситуацији приказаној на слици, на путу у насељу који није аутопут и мотопут, теретно возило вуче два прикључна возила:</p> <p>a) прописно. <input type="checkbox"/></p> <p>b) непрописно. <input type="checkbox"/></p>	<p>2</p>

	<p>1. У ситуацији приказаној на слици, возач теретног возила:</p> <p>а) сме да уђе у раскрсницу и изврши скретање улево, при чему је дужан да пропусти жуто путничко возило <input type="checkbox"/></p> <p>б) сме да уђе у раскрсницу и изврши скретање улево без заустављања. <input type="checkbox"/></p> <p>в) дужан је да се заустави непосредно испред линије заустављања. <input type="checkbox"/></p>	<p style="text-align: right;">3</p>
	<p>3. У ситуацији приказаној на слици, дању у условима добре видљивости, на плавом путничком возилу које се креће на путу, укључена су само дневна светла:</p> <p>а) прописно. <input type="checkbox"/></p> <p>б) прописно, с тим да морају бити укључена и позициона светла. <input type="checkbox"/></p> <p>в) непрописно, јер морају бити укључена кратка и позициона светла <input type="checkbox"/></p>	<p style="text-align: right;">2</p>
	<p>5. Возач возила хитне медицинске помоћи, у ситуацији приказаној на слици:</p> <p>а) дужан је да пропусти возило полиције а има првенство пролаза у односу на плаво путничко возило. <input type="checkbox"/></p> <p>б) дужан је да пропусти оба возила. <input type="checkbox"/></p> <p>в) има првенство пролаза у односу на оба возила. <input type="checkbox"/></p>	<p style="text-align: right;">3</p>
	<p>6. У ситуацији приказаној на слици, возило хитне медицинске помоћи:</p> <p>а) је возило под пратњом. <input type="checkbox"/></p> <p>б) је возило са правом првенством пролаза. <input type="checkbox"/></p> <p>в) није возило под пратњом ни возило са правом првенства пролаза. <input type="checkbox"/></p>	<p style="text-align: right;">2</p>
	<p>7. Теретном возилу, у ситуацији приказаној на слици:</p> <p>а) забрањено је само паркирање. <input type="checkbox"/></p> <p>б) дозвољено је заустављање и паркирање. <input type="checkbox"/></p> <p>в) забрањено је заустављање и паркирање. <input type="checkbox"/></p>	<p style="text-align: right;">2</p>
	<p>8. У ситуацији приказаној на слици, путничко возило се приближава:</p> <p>а) прелазу пута преко железничке пруге који није обезбеђен браницима или полубраницима. <input type="checkbox"/></p> <p>б) прелазу пута преко железничке пруге који је обезбеђен браницима или полубраницима. <input type="checkbox"/></p>	<p style="text-align: right;">2</p>
	<p>9. У ситуацији приказаној на слици, на путу у насељу, возач сивог путничког возила врши претицање:</p> <p>а) прописно, јер не омета саобраћај из супротног смера. <input type="checkbox"/></p> <p>б) прописно, јер возач испред њега није дао знак за претицање или обилажење. <input type="checkbox"/></p> <p>в) непрописно. <input type="checkbox"/></p>	<p style="text-align: right;">3</p>
	<p>10. У ситуацији приказаној на слици, возач плавог путничког возила се укључује у саобраћај:</p> <p>а) прописно, јер је укључио леви показивач правца. <input type="checkbox"/></p> <p>б) непрописно, јер се пре укључивања левог показивача правца није уверио да то може извршити на безбедан начин. <input type="checkbox"/></p> <p>в) прописно, јер има предност у односу на теретно возило. <input type="checkbox"/></p>	<p style="text-align: right;">3</p>

	<p>1. У ситуацији приказаној на слици, возач плавог путничког возила прописно врши скретање улево:</p> <p>а) путањом број 1. <input type="checkbox"/></p> <p>б) путањом број 1 или 2. <input type="checkbox"/></p> <p>в) путањом број 2 или 3. <input type="checkbox"/></p> <p>г) путањом број 3. <input type="checkbox"/></p>	<p>3</p>
	<p>2. У ситуацији приказаној на слици возачу жутог путничког возила скретање удесно:</p> <p>а) дозвољено је, с тим да је возач дужан да укључи десни показивач правца. <input type="checkbox"/></p> <p>б) није дозвољено. <input type="checkbox"/></p>	<p>2</p>
	<p>3. У ситуацији приказаној на слици, ограничење брзине кретања изражено саобраћајним знаком, примењује се:</p> <p>а) на путничко возило, теретно возило и аутобус. <input type="checkbox"/></p> <p>б) само на теретно возило. <input type="checkbox"/></p> <p>в) на путничко возило и теретно возило. <input type="checkbox"/></p>	<p>3</p>
	<p>4. Постављене ознаке на задњој страни теретног возила, приказане на слици, означавају:</p> <p>а) дуга возила. <input type="checkbox"/></p> <p>б) спора возила. <input type="checkbox"/></p> <p>в) тешка возила. <input type="checkbox"/></p>	<p>2</p>
	<p>5. У ситуацији приказаној на слици, возач сивог путничког возила:</p> <p>а) дужан је да пропусти возило полиције, а има првенство пролаза у односу на трамвај. <input type="checkbox"/></p> <p>б) дужан је да пропусти оба возила. <input type="checkbox"/></p> <p>в) дужан је да пропусти трамвај, а има првенство пролаза у односу на возило полиције. <input type="checkbox"/></p>	<p>3</p>
	<p>6. У ситуацији приказаној на слици, возило полиције:</p> <p>а) је возило под пратњом. <input type="checkbox"/></p> <p>б) је возило са правом првенства пролаза. <input type="checkbox"/></p> <p>в) није возило под пратњом, ни возило са правом првенства пролаза. <input type="checkbox"/></p>	<p>2</p>
	<p>7. У ситуацији приказаној на слици, прописно се креће:</p> <p>а) само плаво путничко возило. <input type="checkbox"/></p> <p>б) само жуто путничко возило. <input type="checkbox"/></p> <p>в) плаво путничко возило и жуто путничко возило. <input type="checkbox"/></p>	<p>3</p>
	<p>8. У ситуацији приказаној на слици, возач сивог путничког возила:</p> <p>а) сме да врши претицање. <input type="checkbox"/></p> <p>б) сме да врши претицање, само ако би, по извршеном претицању, могао безбедно да се врати у крајњу десну саобраћајну траку. <input type="checkbox"/></p> <p>в) не сме да врши претицање. <input type="checkbox"/></p>	<p>3</p>
	<p>9. У ситуацији приказаној на слици, теретном возилу:</p> <p>а) забрањено је заустављање и паркирање. <input type="checkbox"/></p> <p>б) дозвољено је само заустављање. <input type="checkbox"/></p> <p>в) дозвољено је заустављање и паркирање. <input type="checkbox"/></p>	<p>2</p>
	<p>10. У ситуацији приказаној на слици, на путу у насељу, сигурносни троугао је постављен:</p> <p>а) прописно, испред принудно заустављеног возила, на прописаној удаљености. <input type="checkbox"/></p> <p>б) непрописно. <input type="checkbox"/></p>	<p>2</p>

	<p>1. У ситуацији приказаној на слици, возач плавог путничког возила прописно врши скретање улево:</p> <p>а) путањом број 1. <input type="checkbox"/></p> <p>б) путањом број 2. <input type="checkbox"/></p> <p>в) путањом број 3. <input type="checkbox"/></p> <p>г) било којом путањом. <input type="checkbox"/></p>	<p>3</p>
	<p>2. У ситуацији приказаној на слици, возач жутог путничког возила:</p> <p>а) дужан је да изврши скретање улево. <input type="checkbox"/></p> <p>б) може да настави кретање право или изврши скретање улево. <input type="checkbox"/></p>	<p>2</p>
	<p>3. У ситуацији приказаној на слици, возач жутог путничког возила:</p> <p>а) не сме да изврши скретање удесно. <input type="checkbox"/></p> <p>б) сме да изврши скретање удесно, с тим да има предност у односу на трамвај који наилази са десне стране. <input type="checkbox"/></p> <p>в) сме да изврши скретање удесно, с тим да је дужан да пропусти трамвај који наилази са десне стране. <input type="checkbox"/></p>	<p>3</p>
	<p>4. У ситуацији приказаној на слици, возач црвеног путничког возила:</p> <p>а) сме да врши претицање. <input type="checkbox"/></p> <p>б) сме да врши претицање, с тим да је дужан да употреби звучни и светлосни знак упозорења. <input type="checkbox"/></p> <p>в) не сме да врши претицање. <input type="checkbox"/></p>	<p>3</p>
	<p>5. У ситуацији приказаној на слици, возач жутог путничког возила:</p> <p>а) дужан је да пропусти возило полиције, а има првенство пролаза у односу на возило ватрогасне службе. <input type="checkbox"/></p> <p>б) дужан је да пропусти оба возила. <input type="checkbox"/></p> <p>в) дужан је да пропусти возило ватрогасне службе, а има првенство пролаза у односу на возило полиције. <input type="checkbox"/></p>	<p>3</p>
	<p>6. У ситуацији приказаној на слици, возило полиције:</p> <p>а) је возило под пратњом. <input type="checkbox"/></p> <p>б) је возило са правом првенства пролаза. <input type="checkbox"/></p> <p>в) није возило под пратњом ни возило са правом првенства пролаза. <input type="checkbox"/></p>	<p>2</p>
	<p>7. У ситуацији приказаној на слици, возач плавог путничког возила:</p> <p>а) сме да пресеца колону пешака. <input type="checkbox"/></p> <p>б) не сме да пресеца колону пешака. <input type="checkbox"/></p> <p>в) сме да пресеца колону пешака, с тим да је дужан да употреби звучни знак упозорења. <input type="checkbox"/></p>	<p>3</p>
	<p>8. У ситуацији приказаној на слици, сивом путничком возилу:</p> <p>а) дозвољено је заустављање и паркирање. <input type="checkbox"/></p> <p>б) забрањено је заустављање и паркирање. <input type="checkbox"/></p> <p>в) дозвољено је заустављање, а забрањено паркирање. <input type="checkbox"/></p>	<p>2</p>
	<p>9. Удаљеност теретног возила од прелаза пута преко железничке пруге, у ситуацији приказаној на слици, износи:</p> <p>а) 80 m. <input type="checkbox"/></p> <p>б) 160 m. <input type="checkbox"/></p> <p>в) 240 m. <input type="checkbox"/></p>	<p>2</p>
	<p>10. У ситуацији приказаној на слици, на путу ван насеља, сигурносни троугао је постављен:</p> <p>а) прописно, иза принудно заустављеног возила, на прописаној удаљености. <input type="checkbox"/></p> <p>б) непрописно. <input type="checkbox"/></p>	<p>2</p>